



ROTEIRO DE ATIVIDADES - DISCIPLINA: MATEMÁTICA

SÉRIE/TURMA: 3ºA

Aluna: Giovanna

PROFESSORA: CARLA MARGARETH

Data: 23/03/2020 (1 AULA)

COLÉGIO PIO XII
BELO HORIZONTE - MG

- 1) PROCURE EM REVISTAS E JORNAIS OS NUMERAIS 11, 12, 13, 14 E 15. COLE-OS EM SEU CADERNO E FAÇA DESENHOS REPRESENTANDO A QUANTIDADE DE CADA UM.
- 2) ESCREVA POR EXTENSO O NOME DOS NUMERAIS QUE VOCÊ ENCONTROU.

Data: 25/03/2020 (1 AULA)

COLE IMAGENS QUE REPRESENTEM AS SEGUINTE FIGURAS GEOMÉTRICAS.

QUADRADO — CÍRCULO — RETÂNGULO — TRIÂNGULO

DESENHE AS FIGURAS GEOMÉTRICAS CITADAS NA ATIVIDADE ANTERIOR.

Data: 26/03/2020 (2 AULAS)

COLE O CALENDÁRIO DE MARÇO DE 2020 NO SEU CADERNO E FAÇA O QUE SE PEDE.


• RESPONDA:


- A) QUANTOS DOMINGOS HÁ NO MÊS DE MARÇO?
- B) QUANTOS SÁBADOS HÁ NO MÊS DE MARÇO?
- C) NO MÊS DE MARÇO, HÁ MAIS SÁBADOS OU MAIS DOMINGOS?

- PINTE, NO CALENDÁRIO, OS DIAS DE COMEMORAÇÃO DE ANIVERSÁRIOS, DO MÊS DE MARÇO, DE COLEGAS DE NOSSA SALA. DIA 06 DE MARÇO DO LUCAS E DIA 18 DE MARÇO DA SOPHIA.
- CIRCULE, NO CALENDÁRIO, O INÍCIO DA ESTAÇÃO DO OUTONO – 20 DE MARÇO.

Data: 27/03/2020 (1 AULA)

CONTE QUANTOS BRINQUEDOS HÁ NA ESTANTE.
COMPLETE AS OPERAÇÕES.







a)  +  =

f)  +  =



b)  +  =



g)  +  =



c)  +  =

h)  +  =

d)  +  =

i)  +  =

e)  +  =

j)  +  =



COLÉGIO PIO XII
BELO HORIZONTE - MG

Fonte: <http://www.educalunos.com/2014/08/atividade-matematica-1-ano-adicao-e.html>